



Boshlang'ich ta'lim (O'zbek)



- 1 2 3 4 5 6 7 8 9 10 11 12 13 14 15 16 17 18 19 20 21 22 23
24 25 26 27 28 29 30 31 32 33 34 35 36 37 38 39 40

1. Qaysi gapda vergulning qo'yilishi undalmaning qo'llanishi bilan bog'liq?

- O'g'lim, senga ajoyib ovqatlar tayyorladim.
- Kitob, daftarlarimni yig'ishtira boshladim.
- Mazali, shirin quymoqlar pishirib qo'ydim.
- Xullas, kechagi qilmishlaring uchun javob ber.

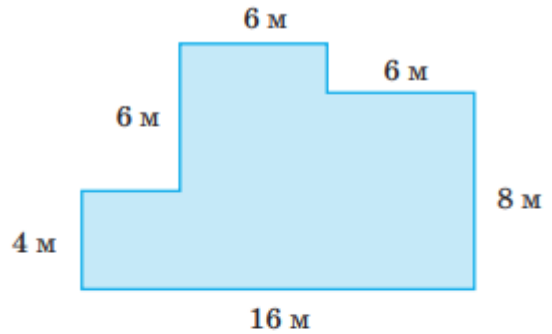


Oldingi savol

Keyingi savol



2. Berilgan shakl yuzi necha kv metrga teng?



- 128
- 122
- 124
- 120



3. Ushbu gapda necha o'rinda imloviy xatolik uchraydi?

Internetda malumot nusxasini ko'chirib olish, muzokara va muloqat olib borish imkoniyati xam mavjud.

2

1

4

3



4. Quyidagi bo'limlardan qaysilari ona tili metodikasi uchun asos hisoblanadi? **1.Fonetika 2.Fonologiya**

3. Orfoepiya 4. Grafika

5. Orfografiya. 6.Leksikolo-giya

7. Frazologiya 8.So'z yasalishi

9. Etimologiya 10.Grammatika

11.Stilistika

1 2 4 6 7 9 10 11

1 3 4 5 6 7 8 9 10

2 3 5 6 7 8 10 11

1 2 3 4 5 6 7 8 9 10 11

- 1 2 3 4 5 6 7 8 9 10 11 12 13 14 15 16 17 18 19 20 21 22 23 24 25 26 27 28 29 30
31 32 33 34 35 36 37 38 39 40

5. "Ziyrak uch yigit" ertagida uch yigit o'zining topqirligi, fahm-farosati bilan kimni lol qoldirishadi.

- Tabibni
 Madrasa domlasini
 Qaroqchilar boshlig'ini
 Hokimni

- 1 2 3 4 5 6 7 8 9 10 11 12 13 14 15 16 17 18 19 20 21 22 23 24 25 26 27 28 29 30
31 32 33 34 35 36 37 38 39 40

6. Anora 6 yoshida ukasi Laziz opasidan ikki baravar yosh edi. Anora bugun 40 yoshda bo'lsa, ukasi Laziz necha yoshda?

- 32 yoshda
 20 yoshda
 37 yoshda
 23 yoshda

- 1 2 3 4 5 6 7 8 9 10 11 12 13 14 15 16 17 18 19 20 21 22 23 24 25 26 27 28 29 30
31 32 33 34 35 36 37 38 39 40

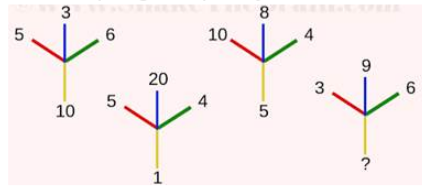
7. Berilgan javoblar qatoridan **ona tili darslariga** qo'yiladigan **umumiy talablarni** aniqlang:

- 1) *Ta'limiy talab*
2) *Gigiyenik talablar*
3) *Pedagogik talab*
4) *Didaktik talablar*
5) *Estetik talab*
6) *Tarbiyaviy talab*

- 1, 2, 4, 6
 1, 2, 3, 4, 5, 6
 1, 6, 3
 1, 4, 2, 3, 5

- 1 2 3 4 5 6 7 8 9 10 11 12 13 14 15 16 17 18 19 20 21 22 23 24 25 26 27 28 29 30
31 32 33 34 35 36 37 38 39 40

8. So'roq belgisini qanday son bilan almashtirishi kerak?



- 4
 7
 2
 8



9. "Ibn Sino bilan tabib" asarida tabib ibn Sinoni qanday qilib tanidi?

- Ibn Sinoning qo'lidagi " Tib qonunlari" kitobiga ko'zi tushgan zahoti .
- Ibn Sinoning qo'llaridagi shifobaxsh giyohlarni ko'rganligi uchun
- Bemor ayolning qo'lining tomirlarini ushlagan zahoti uning kecha kechqurun xo'roz go'shti yeganligini bilganligi uchun.
- Varaqlarining bir chetiga ko'zi tushgan zahoti kitobning "Qonun" ekanligini bilganligi uchun.



10. Tulkinging og'irligi bo'rining og'irligidan ikki baravar yengil. Ayiqning og'irligi tulki og'irligidan 3 baravar og'ir. Ularning umumiy vazni 720 kg bo'lsa, bo'rining og'irligini aniqlang?

- 120 kg
- 360 kg
- 480 kg
- 240 kg



11. STO' darslari o'quvchilarda mustaqil o'qish malakasini shakllantirish qanday bosqichlarga bo'linadi?

- 1) Tayyorlov bosqichi
- 2) Tayyorlovdan keyingi bosqich
- 3) Boshlang'ich bosqich
- 4) Asosiy bosqich
- 5)Avtomatlashgan bosqich

- 1, 3, 4
- 1, 2, 3, 4, 5
- 3, 4, 5
- 1, 4

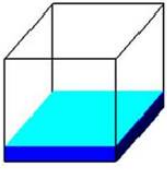


12. Berilgan ketma-ketlikda so'roq belgisi o'rniga qaysi shakl to'g'ri keladi?



-
-
-
-

13. Kub shaklidagi qutining hajmi 2700 l bo'lib, 24% ko'k bo'yoq, 16% havorang bo'yoq, qolgan qismini oq bo'yoq bilan to'ldirildi. Qutining necha litri oq bo'yoq bilan to'ldirilgan?



- 378 litr
- 1620 litr
- 2450 litr
- 1080 litr

14. Qaysi javobdagi nuqtalar o'rniga zarur kelishik qo'shimchasi qo'yilganda tovush tushishi ro'y beradi?

- Sen... mehring bilan yashaymiz, Vatan!
- Biz... qishloq tog' bag'rida joylashgan.
- O'zing... er bilsang, o'zgani sher bil.
- Men u... akam qayerdaligini so'radim.

15.

Agar $0002 = 23$
 $005 = 52$
 $00006 = 64$
 bo'lsa, $00012 = ?$

- 120
- 123
- 128
- 125

16. XXXIV bilan XXVII orasidagi farqni toping.

- XXIV
- VI
- XII
- VII

17. *Imloga oid mashqlarga quyidagilardan qaysilari kiradi?*

- 1) *grammatik-orfografik tahlil*
- 2) *ko'chirib yozuv*
- 3) *diktantlar*
- 4) *leksik-grammatik tahlil*
- 5) *bayonlar*

1, 2, 3, 4, 5

1, 2, 3, 4

2, 4

1, 3, 4

18. Boshlang'ich sinf o'quvchilari uchun **otlarda egalik qo'shimchalari** mavzusining murakkab hisoblanishiga sabab nimada?

qo'shimchalar tarkibi o'xshashligi

"shaxs" tushunchasi bilan hali tanishtirilmaganligi

nutq o'stirish mashqlaridan foydalanmaslik

mavzuni yaxshi o'zlashtirmaslik

19. $10 - 8 =$ ko'rinishidagi misollarni yechish uchun o'quvchi qanday ko'nikmaga ega bo'lishi kerak:

- 1) son tarkibini
- 2) o'rin almashtirish xossasini
- 3) yig'indi va qo'shiluvchilarning o'zaro bog'langanligini
- 4) amallar tartibini
- 5) distribyuterlik xossasini

1, 3

1, 2, 3, 4, 5

1, 3, 5

3, 5

20. Qaysi javobdagi so'zlar o'zaro ma'nodosh bo'la olmaydi?

maqsad, niyat

buyruq, amir

darrov, darhol

dushman, yov

21. Rasmda ko'rsatilgan o'simliklar, asosan qanday suv hisobiga o'sadi?



- Tashlama suvlar
- Yerosti suvlari
- Muzlik suvlari
- Daryo suvlari

22. A.S.Pushkinning "Baliqchi va baliq haqida ertak" asari va Samuil Marshakning "Eshikni yop" asaridagi umumiylikni aniqlang.

- Ikkala asarda ham chol va kampir dengiz bo'yida yashardi .
- Ikkala asarda ham kampir qaysar, o'jar, o'zining gapini o'tkazishga urinadigan qiyofada gavdalangan.
- Ikkala asarda ham baliq obrazi mavjud.
- Ikkala asarda ham chol baliqchi obrazida gavdalangan.

23. Quyidagi ifodalarning qaysi biri $\frac{1}{3}$ qiymatiga teng.

- $1 + \frac{4}{6}$
- $\frac{1}{12} \times 4$
- $\frac{2}{6} \div \frac{2}{6}$
- $\frac{2}{3} + 1$

24. "Ko'k armug'on" hikoyasida "ko'k armug'on" deb qaysi hayvon ta'riflanadi?

- Eshak
- Mushuk
- Ot
- It

25. *Qurilish hovlisiga chang-to'zon ko'tarib yuk mashinasi kirib keldi.*

Gapda ikki o'rinda imloviy xatolik uchraydi.

Ushbu ma'lumot to'g'ri yoki noto'g'ri ekanligini aniqlang.

- to'g'ri
- noto'g'ri

26. Qanday badiiy asar **turida** inson xarakteriga xos xususiyatlar majoziy obrazlar orqali ifodalanadi?

- Masal
- Ertak
- Hikoya
- She'r

27. U karbonat angidrid yutib, kislorod chiqaradi.



- Ha
- Yo'q

28. 100 ichida raqamlashni o'rgatish qanday bosqichlarda amalga oshiriladi.

- 11-20 sonlarini raqamlash va 21-100 sonlarini raqamlash
- 11-100 sonlarini raqamlash
- 10-20 sonlarini raqamlash va 21-100 sonlarini raqamlash
- 1-10 sonlarini raqamlash va 11-100 sonlarini raqamlash

29. Qaysi javobda sifat turkumiga oid soʻz koʻchma maʼnoda qoʻllangan?

- keng maydon
- nozik qiz
- shirin uyqu
- atlas koʻylak

30. Ikkita tovuq ikki daqiqada ikkita tuxum qoʻyishi mumkin. Agar shunday tezlik bilan tuxum qoʻyilsa, 500 ta tuxumni 500 minutda nechta tovuq qoʻyishi mumkin?

- 4
- 2
- 25
- 18

31. Qaysi soʻzlar juftligida jarangli undoshni jarangsiz jufti bilan almashtirish orqali maʼno farqlanishi kuzatilgan?

- 1) darz – dars;
- 2) tovuq – sovuq;
- 3) bod – bot;
- 4) abzal – afzal;
- 5) boʻl – choʻl.

- 1, 3, 4
- 1, 3
- 1, 2, 3, 4, 5
- 2, 4, 5

32. Matematika oʻqitish metodikasi oʻzining tuzilish xususiyatiga koʻra shartli ravishda qanday boʻlimlardan tashkil topgan?

- 1) Matematika oʻqitishning konkret metodikasi
- 2) Matematika oʻqitishning inklyuziv metodikasi
- 3) Matematika oʻqitishning maxsus metodikasi
- 4) Matematika oʻqitishning umumiy metodikasi
- 5) Matematika oʻqitishning abstrakt metodikasi

- 1, 2, 3, 4, 5
- 1, 4, 5
- 1, 3, 4
- 3, 4

33. Ko'rsatilgan viloyatlarga mos keluvchi ko'mir turini aniqlang.



Kokslangan ko'mir va toshko'mir

Briket va kokslangan ko'mir

Toshko'mir va qo'ng'ir ko'mir

Qo'ng'ir ko'mir va briket



34. Oq va pushti rangli marmarlar respublikamizning qaysi viloyatlari hududidan qazib olinadi?

Surxondaryo, Samarqand, Jizzax, Buxoro

Navoiy, Xorazm, Surxondaryo, Farg'ona

Samarqand, Buxoro, Namangan, Navoiy

Toshkent, Samarqand, Navoiy, Jizzax



35. Qaysi gapda yasama ot ishtirok etmagan?

Stol tortmasida qog'ozlar, hujjatlar tartib bilan taxlangan edi.

Baland minoralar ularda g'urur va iftixor tuyg'ularini uyg'otdi.

Qunt, sabr va chidam bilan o'qigan odam maqsadiga erishadi.

Dunyoning eng so'nggi texnikasi yurtimizga kirib kelmoqda.

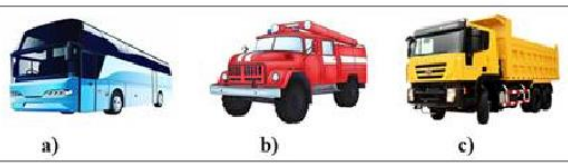
36. Quyida berilgan buyumlarning qaysi usullarga mos yasalganini toping.



- 1-b, 2-c, 3-a.
- 1-a, 2-b, 3-c.
- 1-c, 2-b, 3-a.
- 1-c, 2-a, 3-b.

37. Mashina turlariga mos keluvchi rasm to'g'ri ko'rsatilgan javobni toping.

1. Maxsus mashina
2. Transport mashinasi
3. Yuk mashinasi



- 1-b, 2-a, 3-c.
- 1-c, 2-b, 3-a.
- 1-a, 2-c, 3-b.
- 1-a, 2-b, 3-c.

38. Tushib qolgan sonni toping.



- 3
- 4
- 5
- 6

39. Kelishiklar haqidagi malakani shakllantirish ustida ishlashning samaraliligini ta'minlaydigan shartlarni aniqlang:

- 1) maqsadga muvofiq mashq, tanlash
- 2) o'quvchilarning nutqini o'stirish bilan bog'lab o'rgatish
- 3) mashq materialini asta murakkablashtirib borish
- 4) imloni grammatik bilimni takomillashtirib borish

1, 2, 3, 4

2, 3, 4

1, 2, 4

1, 4

40. Boshlang'ich sinflarda algoritmlashtirish mumkin bo'lgan jarayonlarning eng muhim sinflarini sanang.

- 1) "katta", "kichik", "teng" munosabatlarini o'rgatish
- 2) og'zaki va yozma hisoblashlar
- 3) tenglamalarni yechish
- 4) geometrik shakllarni yasash
- 5) sonning ulushini, sonning kasrini, sonning ulushi bo'yicha o'zini aniqlash
- 6) to'plamlar va ular orasidagi munosabatlar
- 7) fazoviy jismlar

1, 2, 3, 4, 5

1, 2, 3, 4, 5, 6, 7

1, 4, 5, 6

1, 2, 3, 4, 5, 6

Telegram: <https://t.me/ustoz>